

Lehrinformation: Pflanzenwachstumsphasen

Dieses Material muss gegebenenfalls an die Vegetation des jeweiligen Schulgeländes und seiner Umgebung angepasst werden. Weitere Bilder von anderen Pflanzen (hauptsächlich von Bäumen) können auf der Internetseite des GLOBE Programms gefunden werden (<https://www.globe.gov>). Suchen Sie dort nach dem Begriff „green-up cards“.

Lösungen: Ordnen der Pflanzenwachstumsphasen

Gräser: C = 1; A = 2; B = 3

Landschaft: A = 1; D = 2; C = 3; B = 4

Birke: B = 1; C = 2; A = 3

Pflanzenwachstumsphasen

1. Nummeriere die Bilder der Arbeitsblätter P15b bis P15d in der Reihenfolge, in der die Wachstumsphasen auftreten. Beginne mit der Phase, mit der das Kalenderjahr beginnt.
2. In welcher Wachstumsphase befinden sich die Pflanzen aktuell? Vergleiche die Bilder mit der Umgebung.
3. Notiere deine Beobachtungen in der Tabelle.

	Die aktuelle Phase ähnelt Bild Nr.	Beschreibung der Pflanze (Farbe, Größe, Knospen/Blätter/Blüten, Äste, Rinde)
Gräser		
Birke		
Landschaft		

Bildquelle: Globe © 2014: Green Up Cards Learning Activity – Biosphere.
<https://www.globe.gov/documents/355050/71351540-65d6-46a2-b6dd-1504b4035170>




Pflanzenwachstumsphasen - Gräser

A



B




C





Pflanzenwachstumsphasen - Landschaft


A



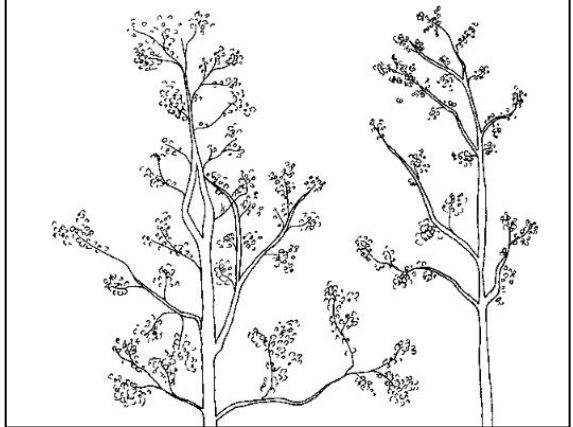

B



C



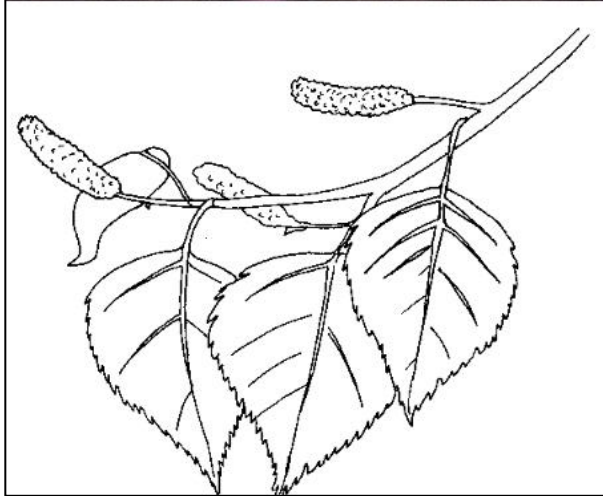
D



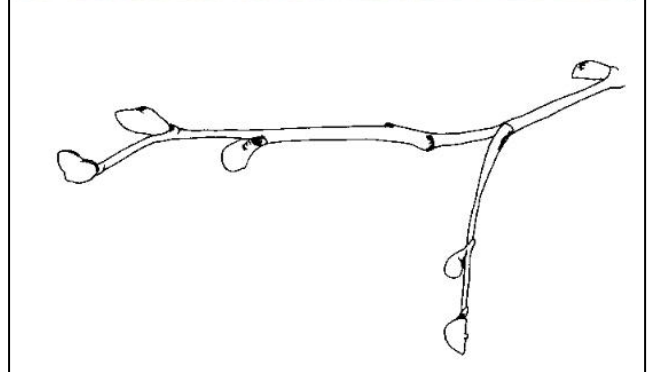


Pflanzenwachstumsphasen – Birke

A



B



C

