

3.16 Ciclul sezonier al plantelor

Material de informare pentru profesor

Este posibil ca acest material să fie nevoie a fi adaptat la vegetația de pe terenul școlii sau din împrejurimi. Imagini suplimentare cu alte plante (în principal copaci) pot fi găsite pe site-ul web al programului GLOBE (<http://globe.gov>). Căutați termenul „*green-up cards*” („cărți verzi”). Asigurați-vă că includeți cratima.

Rezultatele ordonării etapelor de creștere a plantei:

Iarbă: C = 1; A = 2; B = 3

Peisaj: A = 1; D = 2; C = 3; B = 4

Mesteacăn: B = 1; C = 2; A = 3

Ciclul sezonier al plantelor

1. Pe fișele de lucru P15a până la P15d, numerotați imaginile în ordinea în care etapele se petrec în ciclul sezonier. Începeți cu faza care apare prima dată în anul calendaristic.
2. Care este starea actuală a plantelor? Comparați imaginile cu împrejurimile voastre.
3. Notați-vă observațiile în tabelul de mai jos.

| | Starea curentă este asemănătoare cu imaginea nr. | Descrierea plantei (culoare, mărime, muguri/frunze/flori, ramuri, scoarță) |
|-----------|--|--|
| Ierburi | | |
| Mesteacăn | | |
| Peisaj | | |

Sursa imaginilor: Globe © 2014: Green Up Cards Learning Activity – Biosphere.

<https://www.globe.gov/documents/355050/71351540-65d6-46a2-b6dd-1504b4035170>



Ciclul sezonier – ierburi

A



B





C





Ciclul sezonier - peisaj

A



C

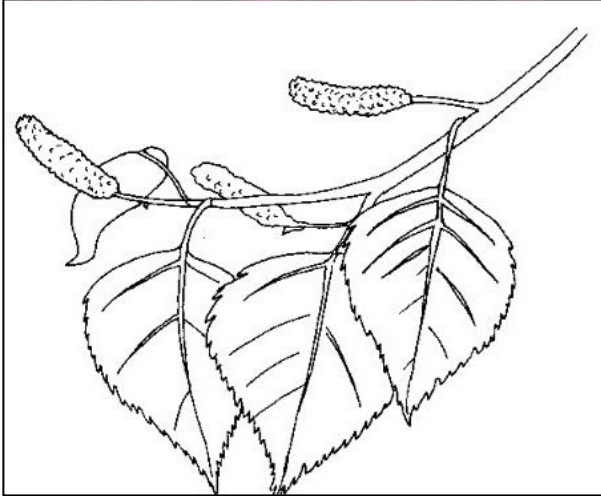
B



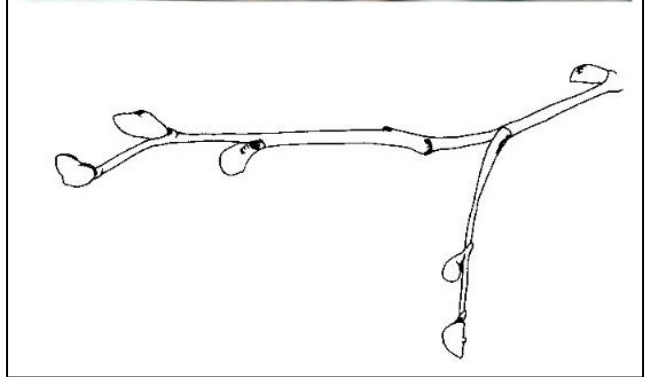
D

Ciclul sezonier – mesteacănul

A



B



C

